

Aşağıdaki benzer nesnelere sayalım, kaç tane olduklarını kutucuklara yazalım.









<input type="text"/>	<input type="text"/>	<input type="text"/>	<input type="text"/>	<input type="text"/>	<input type="text"/>







<input type="text"/>	<input type="text"/>	<input type="text"/>	<input type="text"/>	<input type="text"/>	<input type="text"/>	<input type="text"/>	<input type="text"/>	<input type="text"/>

Aşağıdaki benzer nesneleri sayalım, kaç tane olduklarını kutucuklara yazalım.

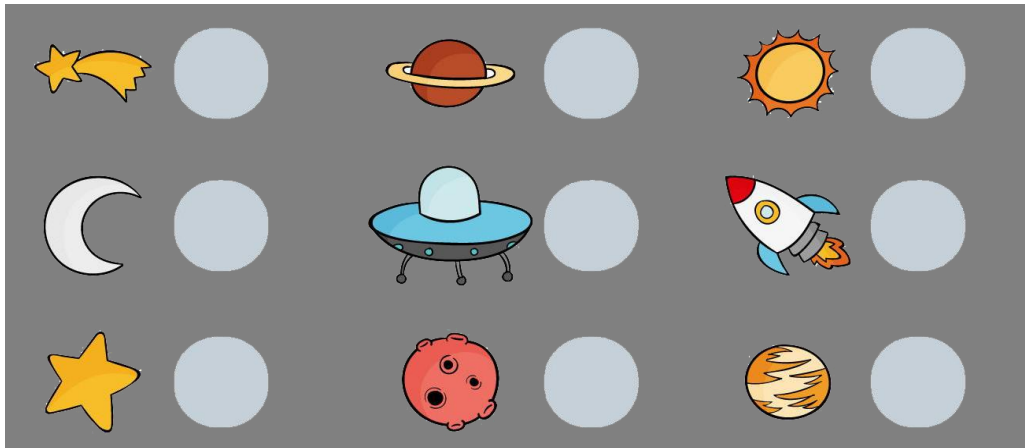

	=	<input type="text"/>
	=	<input type="text"/>
	=	<input type="text"/>
	=	<input type="text"/>
	=	<input type="text"/>









	<input type="text"/>
	<input type="text"/>
	<input type="text"/>
	<input type="text"/>




Aşağıdaki benzer nesnelere sayalım, kaç tane olduklarını kutucuklara yazalım.



Aşağıdaki benzer nesnelere sayalım, kaç tane olduklarını kutucuklara yazalım.

	=	<input type="text"/>
	=	<input type="text"/>
	=	<input type="text"/>
	=	<input type="text"/>
	=	<input type="text"/>
	=	<input type="text"/>



	<input type="text"/>
	<input type="text"/>
	<input type="text"/>
	<input type="text"/>
	<input type="text"/>
	<input type="text"/>

